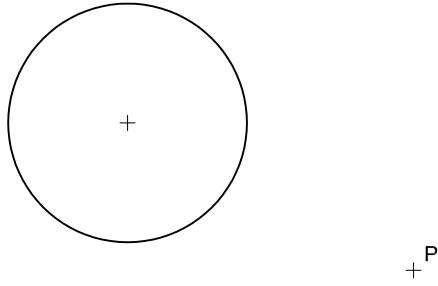
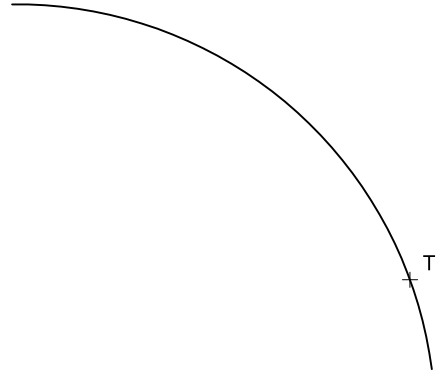


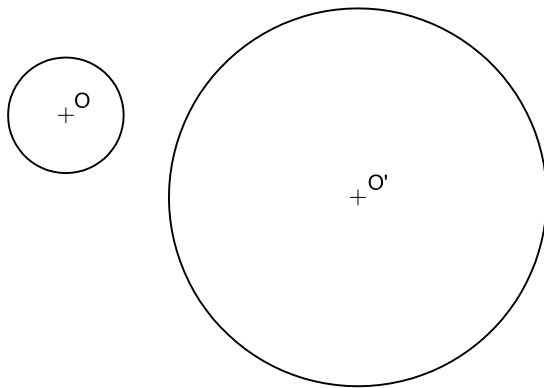
1.- Traçar les rectes tangents a una circumferència que passen per un punt exterior a ella.



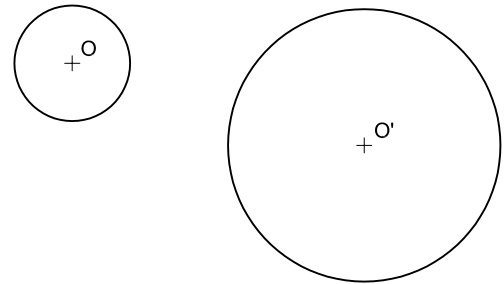
2.- Traçar una recta tangent a un arc de circumferència, el centre de la qual es desconeix, per un punt de tangència donat.



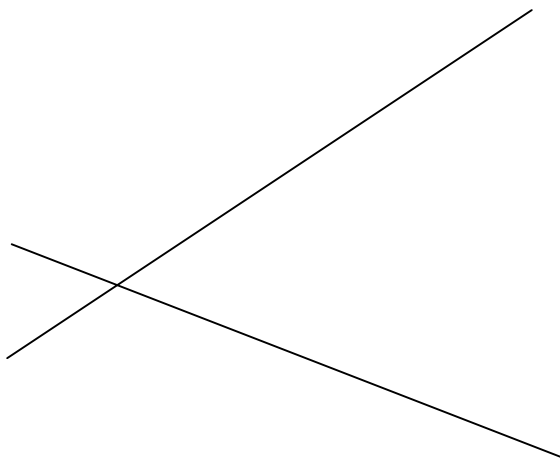
3.- Traçar les rectes tangents exteriors comunes a dues circumferències donades de diferent radi.



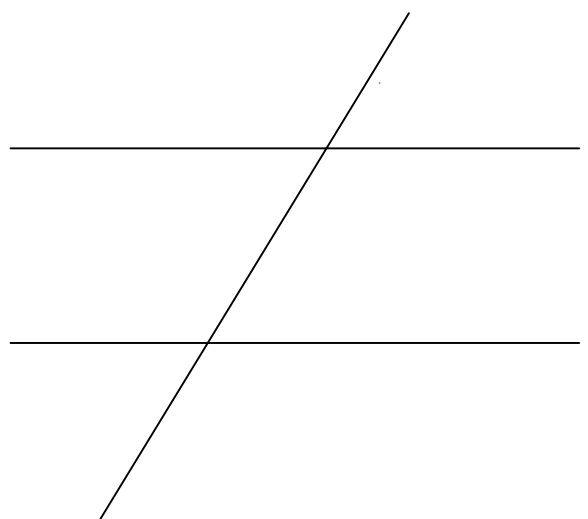
4.- Traçar les rectes tangents interiors comunes a dues circumferències donades de diferent radi.



5.- Traçar la circumferència de radi R=20 tangent als costats d'un angle.



6.- Traçar les circumferències tangents a tres rectes donades.



Institut
IES. GILABERT
CENTELLES

Grup

Nº

Nota

TANGÈNCIES I

Núm. dibuix