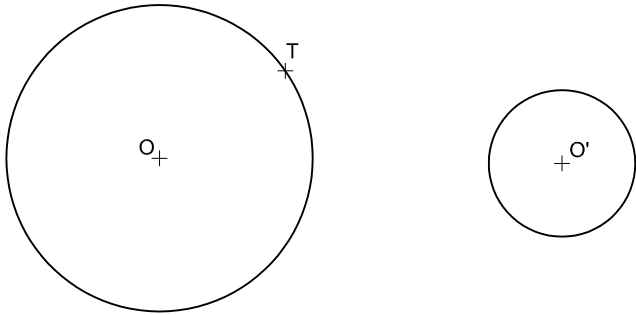
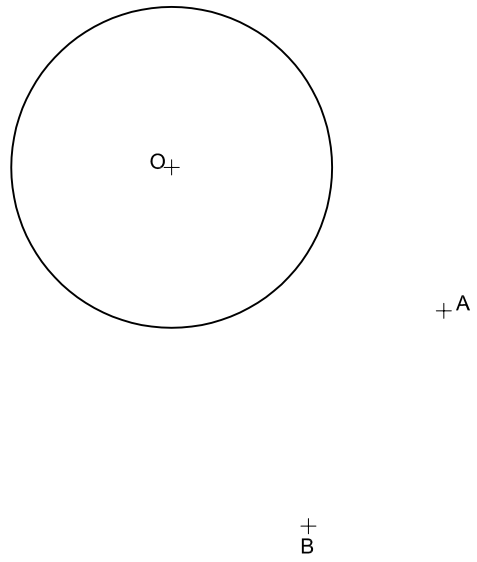


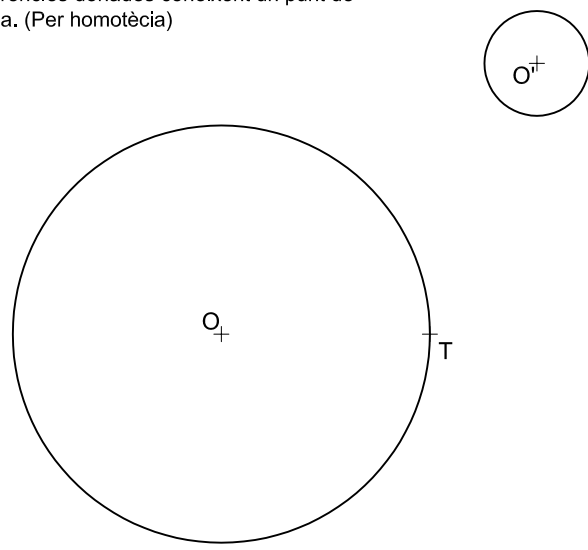
1.- Traçar la circumferència tangent a dues circumferències donades coneixent un punt de tangència.



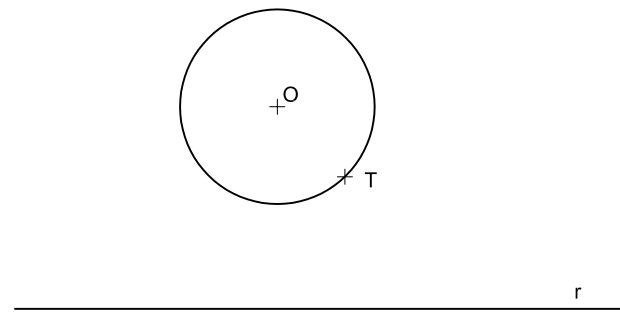
2.- Traça la circumferència tangent a una circumferència donada i que passe per dos punts exteriors.



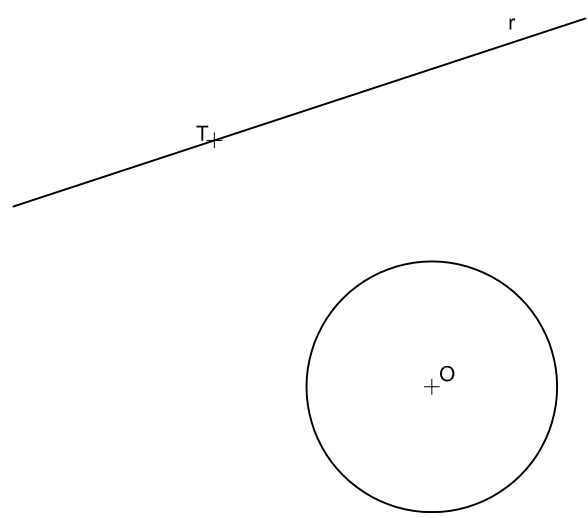
2.- Traçar la circumferència tangent a dues circumferències donades coneixent un punt de tangència. (Per homotècia)



5.- Traçar una circumferència tangent a una recta i a una circumferència donat el punt de tangència en la circumferència.



6.- Traçar una circumferència tangent a una recta i a una circumferència donat el punt de tangència en la recta.



Institut
IES. GILBERT
CENTELLES

Grup

Nº

Nota

TANGÈNCIES III

Núm. dibuix